

2 時こくと時間	年 組 番	
	名前	

きょうかしよ 15 ページ から 21 ページ

【めあて】 1日の 生活の中で、 ひつような 時こくや時間を もとめることが できる。

1 「時こく」と 「時間」の ちがいについて 知る。

- 「時こく」・・・あるきまった 時間の 1点を あらわす。
- 「時間」・・・ある時こくから 時こくまでの 間の 長さのこと

2 時間の たんいについて りかいする。

- 1分間の 長さについて
- 1時間が 60分という かんけいについて

1時間＝

分

3 1日の 生活の 中で 「午前」と「午後」の ちがいについて りかいする。

- 「正午」を さかいにして 「午前」と 「午後」に 分かれていること
 - ・「午前」・・・夜中の れい時から 正午までの 時間を 表すこと
 - ・「午後」・・・正午から れい時までの 時間を 表すこと。

- 1日が 24時間という かんけいについて

1日＝

時間

2 時こくと時間	年 組 番	4問
	名前	

① つぎの アから エで 時こくを あらわしている ものを 2つ えらびましょう。

- ア：けさは 午前6時20分に おきました。
- イ：図工の 作ひんを 作るのに 1時間30分 かかりました。
- ウ：家から 図書かんまでは 歩いて 20分です。
- エ：家に つくのは 午後4時3分です。

と

② 学校にいた 時間は 何時間ですか。時計を 見て 答えましょう。

学校についた 時こく 学校を出た 時こく



午前8時



午後3時

時間

③ 下の 時計には はりが かけられていません。左の 時計は 8時30分を あらわし
右の 時計は 3時45分を あらわすように 長い はりと みじかい はりを か
きましょう。

(8時30分)

(3時45分)

ステップ

学習日 年 月 日


2 時こくと時間	年 組 番	4問
	名前	

- ① 時計が あらわしている 時こくは 何時何分でしょう。



時	分
---	---

- ② 2時30分から 1時間 勉強を しました。勉強を はじめた 時こくと 終わった 時こくを 時計に あらわしましょう。



はじめた時こく



終わった時こく

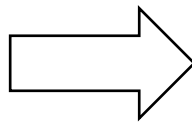

- ③ ただしさんは 午前9時40分に 家を出て、1時間30分後に おじさんの 家につきました。おじさんの 家についた 時こくをかきましょう。

おじさんの 家についた 時こくは 午前

時	分
---	---

2 時こくと時間	年 組 番	4問
	名前	

1 よしさんは 午前9時40分から 1時間20分 本を 読みました。読み終わった時こくを 時計に あらわしましょう。 また その時こくは 何時何分ですか。



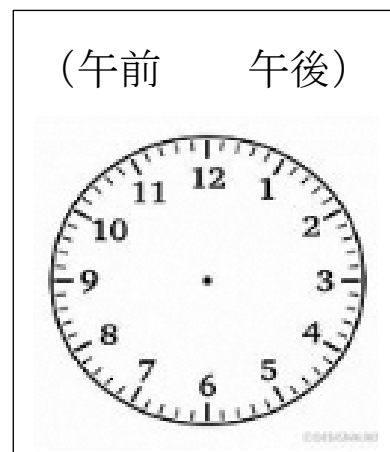
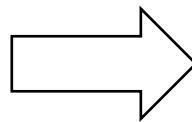
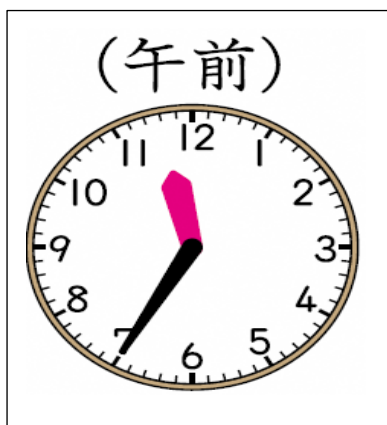
読みはじめた時こく

(9時40分)

読み終わった時こく

(時 分)

2 つぎの 時こくから 50分後の 時こくを 午前か 午後の どちらかを えらび その時の 時こくの 時計の はりを かき入れましょう。



時 分