


<b>15</b>	<b>1000より大きい数</b>	年 組 番	
		名前	

きょうかしよ 71ページ から 80ページ

【めあて】 大きな数は、1000のまとまりにして あらわすことができる。

1 「千の位」を使って、大きな数をあらわす。

二千三百五十四・・・・・・・・ 2 3 5 4  
千  
の  
位

つぎの数を よみましょう。 7095

数字で 書きましょう。 六千二百四十五

2 4025は、1000を  こ、10を  こ 1を  こ あわせた  
 数です。

3 □に あてはまる>、<、を書きましょう。

3069  3078      6179  6174

<b>15</b>	<b>1000より大きい数</b>	年 組 番	名前
		10問	

① カードを 位ごとに ならべました。いくつを あらわしているでしょう。

<table border="1" style="margin: auto;"> <tr><td>1000</td></tr> <tr><td>1000</td></tr> <tr><td>1000</td></tr> </table>	1000	1000	1000	<table border="1" style="margin: auto;"> <tr><td>100</td><td>100</td></tr> <tr><td>100</td><td>100</td></tr> <tr><td>100</td><td>100</td></tr> <tr><td>100</td><td>100</td></tr> <tr><td>100</td><td>100</td></tr> </table>	100	100	100	100	100	100	100	100	100	100	<table border="1" style="margin: auto;"> <tr><td>10</td><td>10</td></tr> <tr><td>10</td><td>10</td></tr> <tr><td>10</td><td>10</td></tr> <tr><td>10</td><td>10</td></tr> <tr><td>10</td><td>10</td></tr> <tr><td>10</td><td>10</td></tr> </table>	10	10	10	10	10	10	10	10	10	10	10	10	<table border="1" style="margin: auto;"> <tr><td>1</td><td>1</td></tr> <tr><td>1</td><td>1</td></tr> <tr><td>1</td><td>1</td></tr> <tr><td>1</td><td>1</td></tr> <tr><td>1</td><td>1</td></tr> <tr><td>1</td><td>1</td></tr> </table>	1	1	1	1	1	1	1	1	1	1	1	1
1000																																								
1000																																								
1000																																								
100	100																																							
100	100																																							
100	100																																							
100	100																																							
100	100																																							
10	10																																							
10	10																																							
10	10																																							
10	10																																							
10	10																																							
10	10																																							
1	1																																							
1	1																																							
1	1																																							
1	1																																							
1	1																																							
1	1																																							
千のくらい	百のくらい	十のくらい	一のくらい																																					

② □に あてはまる数を、書きましょう。

(1) 1000を5つ 100を6つ 1を4つ あわせた数は、 です。

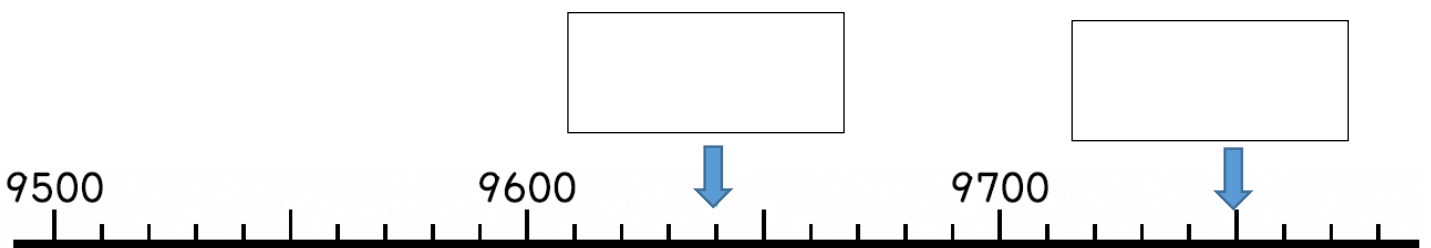
(2) 八千五百一を 数字で書くと、 です。

③ 計算を しましょう。

$402 + 6607 =$

$8000 - 3006 =$

④ □に 入る数を、書きましょう。

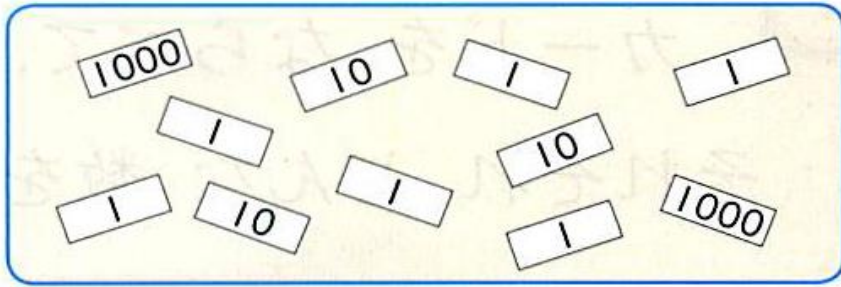


# ステップ

学習日 年 月 日

<b>15</b> <b>1000より大きい数</b>	年 組 番	7問
	名前	

① いくつですか。数を 書きましょう。



② □に あてはまる数を、書きましょう。

(1) 500より 100小さい数は  です。

(2) 4500よりも 1小さい数は  です。

③ □に あてはまる しるしは <、>、=の どれでしょう。( )の中に、しるしを  
書きましょう。

5500  4600+900      9700-1200  8600

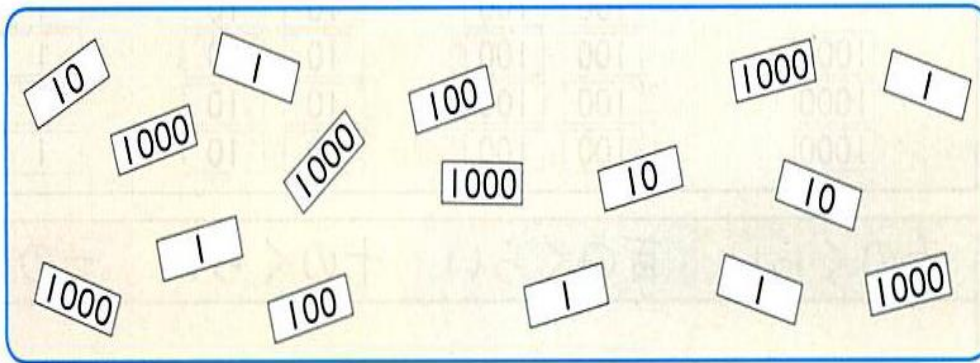
④ 計算を しましょう。

(1)  $1002 - 785 =$

(2)  $343 - 209 + 576 =$

<b>15</b>	<b>1000より大きい数</b>	年 組 番	5問
		名前	

1 いくつですか。数を 書きましょう。




2 計算を しましょう。

(1)  $3002 - 785 =$

(2)  $845 - 308 + 279 =$

3 □に あてはまる数を、書きましょう。

(1) 100を43こ あつめた数は  です。

(2) 9700は 100を  こ あつめた数です。