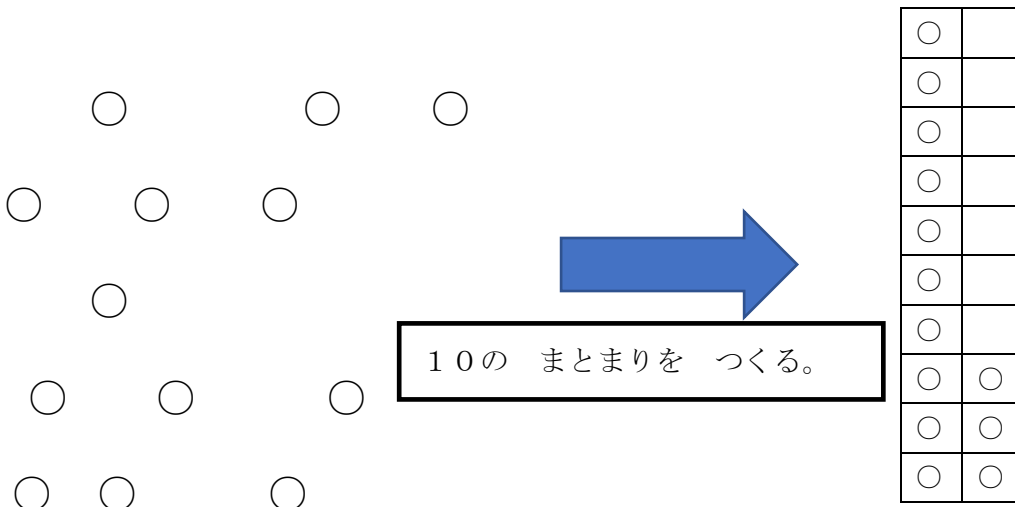


8	10より大きいかず	年 組 番	
		なまえ	

きょうかしよ 74ページから 85ページ

【めあて】 ものが たくさんある とき 10の まとまりを つくって しらべること。

1. 10と いくつ という かぞえかた について



(1) □に かずを いれましょう。

--	--

2. 20までの かずを かぞえることが できる。()の中に よみかたを かきましょう。

1 2 3 4 … 10 11 … 19 20

いち に さん し じゅう () じゅうく ()

3. 20までの かずの たしざん、ひきざんをしましょう。

(1) $10 + 5$

(2) $7 + 10$

(3) $15 - 5$

(4) $19 - 6$

8	10より大きいかず	年 組 番	11問
		なまえ	

① つぎの けいさんを しましょう。

$10 + 7$

$4 + 10$

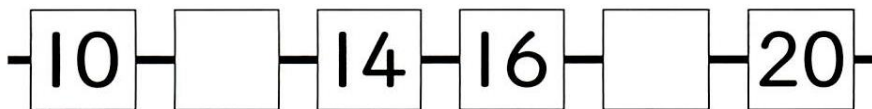
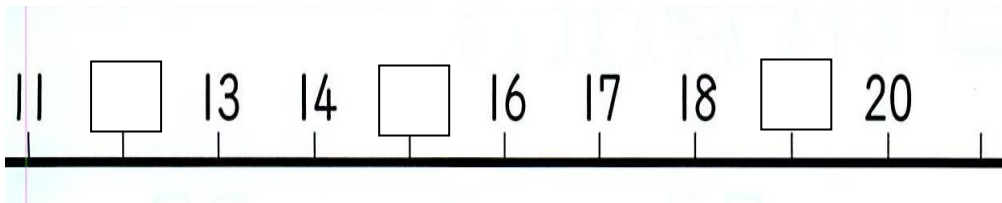
$16 - 6$

② つぎの □には どんな かずが はいるでしょう。

10と4で

13は10と

③ かずの せんの □に あてはまる かずを かきましょう。



④ ひまわりは いくつ さいているでしょう。

□に かずを かきましょう。

本



ステップ

学習日 年 月 日

8	10より大きいかず	年 組 番	10問
		なまえ	

① つぎの けいさんを しましょう。

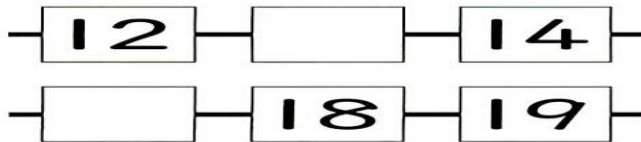
$10 + 5$

$12 + 4$

$19 - 9$

② つぎの □には どんな かずが はいるでしょう。

10と □ で11 □ は10と5



□ — 5 — 10 — 15 — 20 — 25 —

「よんじゅうご」は 10を □ つと

1を □ つ あわせた かずです。

8	10より大きいかず	年 組 番	6問
		なまえ	

1. つぎの けいさんを しましょう。

$13 + 5$

$17 - 4$

$1 - 1$

2. つぎの かずは いくつでしょう。□の中に かずを かきましょう。

(1) 14 より 3 大きい かず

(2) 18 より 6 小さい かず

3. $18 - 10$ の こたえの もとめかたを かんがえましょう。したの しかくのなかに もとめかたを かきましょう。
