

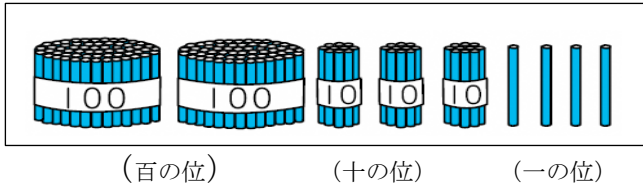
<b>6 100より大きい数</b>	年 組 番	
	名前	

きょうかしよ 66ページ から 81ページ

【めあて】 大きい数は、100の まとまりにすると、わかりやすくなることかわる。

- ・ 100こずつ まとめる。
- ・ 1000までの 数の 大きさをくらべや 数を たしたり ひいたりすること。

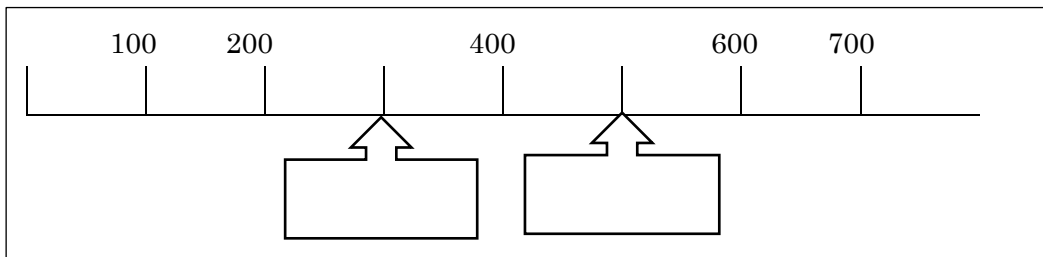
- 1 99に 1くわえると 「百」という たんにに なること。  
「一の位」「十の位」「百の位」



【読み方】 二百三十四

【書き方】 234

- 2 数の線を見て 数の大きさを くらべる。  の中に 数を 書きましょう。




- 3 何十 何百の 計算をしよう。

$$430 + 40 = \boxed{\phantom{000}}$$

$$360 - 30 = \boxed{\phantom{000}}$$

<b>6</b>	<b>100より大きい数</b>	年 組 番	8問
		名前	

① えんぴつは 何本 あるでしょう。



本

② 計算を しましょう。

$80 + 60$

$30 + 90$

$120 - 80$

③ □に あてはまる >か <の しるしを 書きましょう。

$254 \square 343$

$687 \square 678$

④ つぎの 数を 書きましょう。

○ 100を 6こ 10を 3こ あわせた数

○ 100を 5こ 1を 7こ あわせた数

# ステップ

学習日 年 月 日

<b>6</b> <b>100より大きい数</b>	年 組 番	8問
	名前	

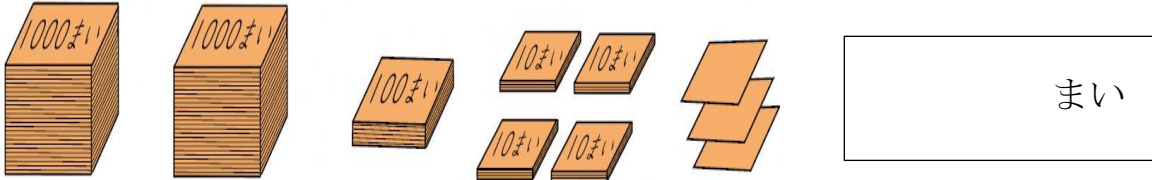
① 計算を しましょう。

$80 + 30$

$500 + 200$

$150 - 70$

② 紙は 何まい あるでしょう。



③ つぎの 数を 書きましょう。

○ 100を 25こ あつめた数

○ 970は 10を いくつ あつめた数

④ □に あてはまる 数を 書きましょう。

○ 583より 1小さい数は  です。

○ 583より 100大きい数は  です。

6	100より大きい数	年	組	番	10問
		名前			

1 計算を しましょう。

$500 + 20$

$800 - 600$

$730 - 30$

2 答えが 1番 大きくなるように □の中に 1, 2, 3, 4の 4つの 数を 1つずつ 入れてから 答えを 書きましょう。

-		

3 1つ 230円の ケーキが あります。このケーキの だいを 10円玉だけで はらうと 10円玉は 何まい ひつようでしょう。

まい

4 □に あてはまる 数を 考えましょう。

$468 < 4 \square 8$

あてはまる数は