

<b>3 たし算</b>	年 組 番	
	名前	

きょうかしよ 22ページ から 37ページ

【めあて】 2けたの たし算の 計算のしかたを考え、 1けたの 計算のときと 同じように 位どうしで 計算することを りかいする。

1 2けたに 2けたの 数を くわえる 計算のしかたについて 1けたのときと 同じように 位どうしで 計算すれば よいことを りかいする。

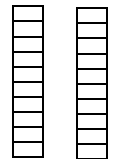



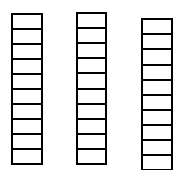

※ 筆算の しかたについて りかいする。

24 + 15のような 計算を 筆算で しましょう。

□の中に 答えを 書き入れましょう。

24

15

+	-
	
	
	

※ 一の 位の 計算で 10の まとまりが できたら 十の 位に くり上げる。

2 たし算で 「たされる数」と「たす数」を 入れかえて たしても 答えは 同じになる。

8 + 6の 答えも 6 + 8の 答えも 両方とも 14になる。

$$8 + 6 = \square + 8$$

<b>3 たし算</b>	年 組 番	10問
	名前	

① 計算を しましょう。

$51 + 23$

$46 + 32$

$11 + 28$

② 筆算で しましょう。

$43 + 5$

+		

$7 + 57$

+		

③ 計算しなくても 答えが 同じになる 式を みつけて <sup>せん</sup>線 で むすびましょう。

$43 + 21$	•	•	$55 + 18$
-----------	---	---	-----------

$26 + 30$	•	•	$30 + 26$
-----------	---	---	-----------

$78 + 13$	•	•	$59 + 7$
-----------	---	---	----------

$18 + 55$	•	•	$12 + 34$
-----------	---	---	-----------

$7 + 59$	•	•	$21 + 43$
----------	---	---	-----------

•	•	$13 + 78$
---	---	-----------

# ステップ

学習日 年 月 日

<b>3 たし算</b>	年 組 番	11問
	名前	

① 計算を しましょう。

$27 + 41$

$43 + 12$

$34 + 15$

$23 + 68$

$35 + 18$

$16 + 49$

② 筆算で しましょう。

$3 + 70$

+		

$59 + 6$

+		

③ 北小学校の 2年生は 2クラスあります。1組が 35人、2組が 34人です。

2年生は みんなで 何人でしょう。

しき

答え 人

<b>3 たし算</b>	年 組 番	8問
	名前	

1 計算を しましょう。

$39 + 48$

$25 + 16$

$47 + 25$

2 筆算で しましょう。

$9 + 37$

+		

$5 + 65$

+		

3 次の 筆算の □の中に あてはまる数を 書き入れ 答えを出しましょう。

	1	8
+	3	□
	□	4

答え
----