

スタート

学習日 年 月 日

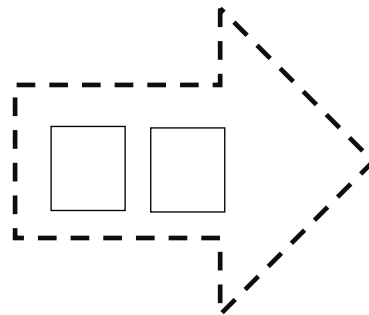
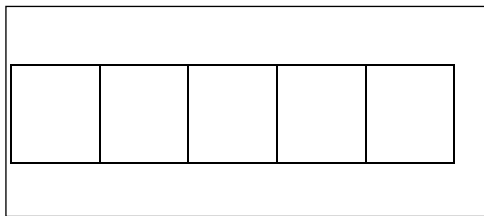
6	のこいは いくつ	年 組 番	
		なまえ	

きょうかしょ 57ページから 67ページ


【めあて】 はじめに あった かずから へって いくときの けいさんの しかたを かんがえる。

1. はじめに ある おおきさから すくなくなった ときの ばめんを かんがえる。

□に かずを いれましょう。



5 - 2 =

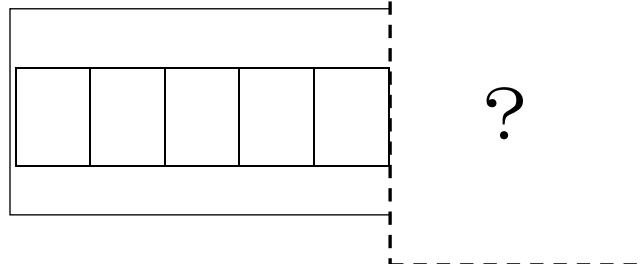
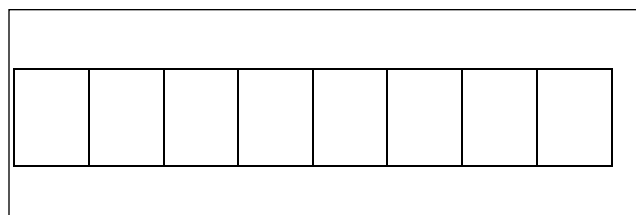


「ご」 「ひく」 「に」 「は」

2. ぜんぶの かずの いっぽうが わかっていて もういっぽうを もとめる。

しきと こたえを かきましよう。

ぜんぶで



しき： _____

こたえ _____

6	のこりは いくつ	年 組 番	9問
		なまえ	

① けいさん しましょう。

- (1) $4 - 1$ (2) $3 - 2$ (3) $6 - 4$

② すいそうに きんぎょが 5ひき います。3ひき とると のこりは なんひきに なったでしょう。

しき

こたえ ひき

③ こどもが はじめに 6にん あそんでいました。3にん かえると のこりは なんにんでしょう。

しき

こたえ にん

④ あおい かさと きいろい かさが あわせて 9ほん あります。あおい かさは 4ほんです。きいろい かさは なんほん あるでしょう。

しき

こたえ ほん

ステップ

学習日 年 月 日

6	のこりは いくつ	年 組 番	7問
		なまえ	

① けいさん しましょう。

(1) $7 - 2$

(2) $10 - 1$

(3) $5 - 0$

② くるまが 5だい とまっています。 2だい でていきました。のこりは なんだいになつたでしょう。

しき

こたえ だい

③ かさが 9ほん かさたてに あります。7にんの こどもが 1ほんずつ かさを もって かえりました。かさは なんほん のこって いるでしょう。

しき

こたえ ほん

6	のこいは いくつ	年 組 番	6問
		なまえ	

1. けいさん しましょう。

(1) $10 - 9$

(2) $6 - 6$

(3) $0 - 0$

2. 8にんで かいものに いきました。 そのうち 3にんが おとなです。 こどもは なんにんでしょう。

しき

こたえ にん

3. $6 - 2 = 4$ の おはなしを かんがえましょう。
