

スタート

学習日 年 月 日

1 4	くらべかた	年 組 番	
		なまえ	

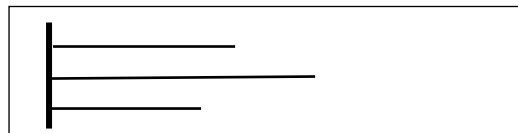
きょうかしよ 128ページから 138ページ

【めあて】 ながさや 水のかさ ひろさなどは かさねたり もとになる 大きさを きめたりすれば、 くらべられることが わかる。

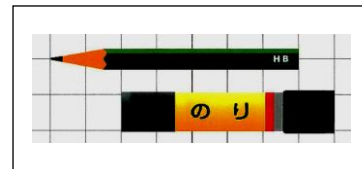
- ① ながさ くらべ・・・129ページから133ページ
- ② 水のかさ くらべ・・・134ページから136ページ
- ③ ひろさ くらべ・・・137ページから138ページ

1. ながさ くらべ

○ そろえて くらべる。



○ ますめの かずなどを つかって くらべる。

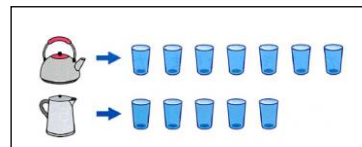


2. 水のかさ くらべ

○ おなじ おおきさの いれものを つかって かさを くらべる。

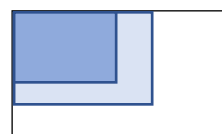


○ コップ なんばいぶん という くらべかたを する。




3. ひろさ くらべ

○ はしを そろえて ひろさを くらべる。




○ ます いくつぶん で ひろさを くらべる。



1 4	くらべかた	年 組 番	3問
		なまえ	

【ながさ くらべ】

○ どちらが ながいかな。なまえを かきましょう。



が ながい

【どちらが おおい】


○ どちらが おおく 入っているでしょう。きごうを かきましょう。



が おおい

【どちらが ひろい】

○ どちらの シートが ひろいでしょう。

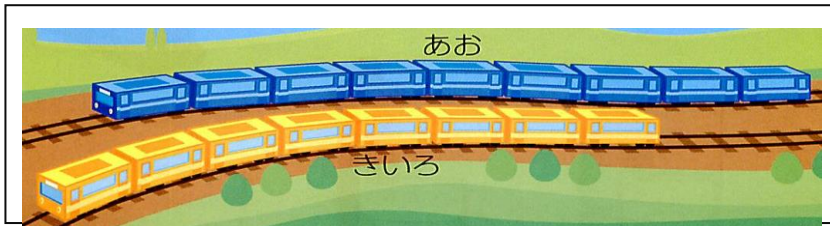


が ひろい

1 4	くらべかた	年 組 番	7問
		なまえ	

【ながさ くらべ】

○ どちらが ながいかな。なまえを かきましょう



が ながい

【どちらが おおい】


○ 水が おおく 入るじゅんに きごうを □の 中に かきましょう。



おおい じゅんに

【どちらが ひろい】

○ ひろいじゅんに きごうを □の中に かきましょう。




ひろい じゅんに

14	くらべかた	年 組 番	5問
		なまえ	

【ながさ くらべ】

○ いちばん ながいのは どれでしょう。きごうで こたえましょう。



1ばん ながいのは
です

【どちらが おおい】

○ おおいじゆんに □の中に きごうを かきましょう。



おおい じゆんに
□ □ □
→

【どちらが ひろい】

○ あゆむさんと かなさんが じんとりあそびを しました どちらが どれだけ ひろいでしょう。

あゆむ		かな	さんのほうが つ ひろい
-----	--	----	--------------